

දකුණු පළාත් අධ්‍යාපන දෙපාර්තමේන්තුව

අවසාන වාර පරීක්ෂණය - 2020

09- ශ්‍රේණිය

පෙරදිග සංගීතය

නම/විභාග අංකය :-

කාලය: පැය 02 යි.

I කොටස

සියලු ම ප්‍රශ්නවලට පිළිතුරු සපයන්න.

- වඩාත් නිවැරදි පිළිතුර යටින් ඉරක් අඳින්න.
- (01) පහත දැක්වෙන රාග අතුරෙන් ශුද්ධ ස්වර සියල්ලම යෙදෙන රාගය කුමක් ද?
 (1) යමන් (2) බිලාවල් (3) කාඟි (4) හෙරවී
- (02) සංගීත විෂයය හදාරන ආධුනිකයකු ආරම්භයේදීම පුහුණු කළ යුතු සංගීතාංගයක් තෝරන්න.
 (1) ස්වර අභ්‍යාස (2) මුඛ්‍යාංගය (3) තානාලංකාර (4) රාග අලාප
- (03) තාලයකින් තොරව නිර්මාණය වී ඇති රාගයට ආවේණික ස්වර ඛණ්ඩය හඳුන්වනු ලබන්නේ,
 (1) ස්ථායී නමිනි. (2) මුඛ්‍යාංගය නමිනි.
 (3) මුකුඩා නමිනි. (4) තානාලංකාර නමිනි.
- (04) ඖඩව, ඡාඩව සම්පූර්ණ යන රාගජාති ස්වර සංඛ්‍යා මගින් දක්වෙන්නේ පිළිවෙළින්,
 (1) 5 6 7 වශයෙනි. (2) 6 5 7 වශයෙනි.
 (3) 7 6 5 වශයෙනි (4) 6 7 5 වශයෙනි.
- (05) නිර්දේශිත රාග අතුරෙන් මධ්‍යමය හා නිශාදය ස්වර වර්ජිතව යෙදෙන රාගය නම් කරන්න.
 (1) බිලාවල් (2) යමන් (3) කාඟි (4) භූපාලි
- (06) ධ ගෙ න ති | න ක ධි න යෙදෙන තබ්ලා පදය වැයීමට සුදුසු ගී පාදය තෝරන්න.
 (1) සුවඳ පද්ම (2) මිහිකත නලවාලා (3) සසර වසනතුරු (4) රන්මලක් ලෙස
- (07) ගරි, ගප, ධ, නිසි යන මුඛ්‍යාංගය අයත් රාගය වනුයේ,
 (1) කාඟි (2) භූපාලි
 (3) බිලාවල් (4) හෙරවී
- (08) ධා ධිං ධිං ධා | ධා ධිං ධිං ධා | ධා නිං නිං නා | |
 මෙම යේකාවේ සිව්වන විභාගයට ඇතුළත් වන අවනද්ධ අක්ෂර තෝරන්න.
 (1) ධා ධිං ධිං ධා (2) ධා නිං නිං නා (3) නා ධිං ධිං ධා (4) ධා ධා ධිං නා





(09) මන්නාරම් පිටි වැල්ලේ.....| මධුර යාමේ යන ගී රාගාශ්‍රිතව නිර්මාණය කරගත් ගීත දෙකකි. ඒ සඳහා යොදා ගත් රාගය කුමක් ?

- (1) භූපාලි (2) යමන් (3) කාලි (4) බ්ලාවල්

(10) පෙරදිග සංගීත භාණ්ඩ වර්ගීකරණය අනුව වයලීනය, බටනලාව, ජල තරංග, තබ්ලාව, යන සංගීත භාණ්ඩ හතර අයත් වන්නේ පිළිවෙලින්,

- (1) තත්, අවනද්ධ, සුමිර, සණ යන වර්ගවලට ය.
 (2) සණ, අවනද්ධ, තත්, සුමිර යන වර්ගවලට ය.
 (3) තත්, සුමිර, සණ, අවනද්ධ යන වර්ගවලට ය.
 (4) අවනද්ධ, සණ, සුමිර, තත් යන වර්ගවලට ය.

• අංක 11 සිට 14 තෙක් ඇති ප්‍රශ්න වලට පහත සඳහන් රූප සටහන් ඇසුරෙන් පිළිතුරු සපයන්න.

A රූපය	B රූපය	C රූපය	D රූපය
			

(11) "ආලෙ බැන්ද මාගෙ රමය වන්" යන ගීතය ගායනයේදී යොදා ගනු ලබන තාල වාද්‍ය භාණ්ඩය තෝරන්න.

- (1) A (2) B (3) C (4) D

(12) B අක්ෂරයට හිමි භාණ්ඩයෙන් වාදනය කළ හැකි බෙරපදය කුමක්ද?

- (1) දො 0 ජී | ජී ග ත (2) ජී මී | ත කු | ත ත් | දො මී
 (3) ගු 0 ද | දෙ ග ත | ග තී ග | ත ගු ද (4) දො 0 | ජී 0 ත | ග ත | දො 0 ත

(13) පංචතූර්ය වාදනයේ, හේවිසි පූජාව සඳහා යොදාගනු ලබන භාණ්ඩය කි.

- (1) A (2) B (3) C (4) D

(14) D අක්ෂරය දැක්වෙන භාණ්ඩය සහය වාදනයට යොදා ගනිමින් ගායනය කළ හැකි ගී පාදය තෝරන්න.

- (1) ගම් වල සැම තැන ඇවිද ගොසින්නේ (2) මෝරා බීජ යෙනා.....
 (3) ගම්හීර කාලීංග නුවර.... (4) මං වගෙ පේඛි කතක් මනා.

(15) ගිටාරයේ ස්වර පිහිටීම දැක්වෙන නිවැරදි පිළිතුර සඳහන් කරන්න.

- (1) EADGBE (2) DGBCEG (3) ABCDEFG (4) EFGABC

(16) රබාන, ගිටාරය, එකෝඩියන්, කොංගෝ, බොංගෝ වැනි සංගීත භාණ්ඩ සුවිශේෂීව යොදා ගනිමින් ගායනා කළ ගීත විශේෂය වන්නේ,

- (1) බ්‍රාජ් ගීත (2) ලක්ෂණ ගීත (3) සර්ගම් (4) කැලිප්සෝ

- (17) පෙරදිග සංගීතයේ ටාඨ නොහාත් මේල දහය හඳුන්වා දුන් පඬිතුමා කවුරුන් ද?
- (1) ජයදේව පඬිතුමා (2) අමීර්කුමාර පඬිතුමා
 (3) විජේඡා නාරායන් හාත්තන්ඬේ පඬිතුමා (4) රත්නජංකර් පඬිතුමා

- (18) රාග විස්තර ඇතුළත් වනසේ පද මාලාව නිර්මාණය වී ඇති ගීත මෙතමන් හඳුන්ව යි.
- (1) බ්‍යාල් ගීත (2) ලක්ෂණ ගීත
 (3) සර්ගම් (4) ගසල්

(19)

E	A	D	G	B	E
				●	
		●			
	●				

ඉහතින් දක්වා ඇත්තේ ගීතාරයක ස්වර පිහිටීම ලකුණු කරන ලද රූප සටහනකි. මෙහි ලකුණු කර ඇති තිත් රූප අනුව, පෙන්වා දී ඇති Chord (කෝඩ්) එක වනුයේ,

- (1) C Major Chord (2) F Major Chord
 (3) G Major Chord (4) D Major Chord
- (20) "මයික්‍රොතෝනය" යනු ශබ්දය,
 (1) ග්‍රහණය කරගන්නා උපකරණයකි. (2) බාහිර පරිසරයට මුදා හරින උපකරණයකි
 (3) විවිත්‍රවත් කරන උපකරණයකි. (4) අඩු වැඩි කරන උපකරණයකි.

(ලකුණු 2 × 20 = 40)

II කොටස

• පළමු ප්‍රශ්නය ඇතුළුව ප්‍රශ්න පහකට පිළිතුරු සපයන්න.

- (01) (1) ස්වර සජ්තකය තුළ යෙදෙන අවල ස්වර දෙක නම් කරන්න. (ලකුණු 01)
- (2) නූර්ති ගීත ගායනයේදී සහය වන තාල වාද්‍ය භාණ්ඩය කුමක් ද? (ලකුණු 01)
- (3) $x x | x x - | x x | x x - |$ මෙම රිද්ම රටාවට ගැලපෙන හින්දුස්ථානී තාලය සහ දේශීය නිත නම් කරන්න. (ලකුණු 02)
- (4) “නාරාවෝ ඉගිලෙති” මෙම පද දෙකෙහි ඇති ලඝු අක්‍ෂර හා ගුරු අක්‍ෂර ගණන ලියන්න. (ලකුණු 02)
- (5) “බැන, අම්බරුවන්, මුදුන” ආදී පද (වචන) ඇතුළත් කෘෂිකර්මාන්තය හා සම්බන්ධ ගීත විශේෂය නම් කරන්න. (ලකුණු 01)
- (6) බැලෝව මගින් නාදය (හඬ) උපදවන ස්වර පුවරු භාණ්ඩ 2 ක් නම් කරන්න. (ලකුණු 02)
- (7) C Major Scale අයත් ස්වර ලියන්න. (ලකුණු 01)
- (8) “ධ ගෙ න ති න ක ධි ත” යන අවනද්ධ අක්‍ෂර වලින් ගොඩනැගෙන නිර්දේශිත තාල දෙක නම් කරන්න. (ලකුණු 02)

(02) නිර්දේශිත රාග අතර ඇති රාග දෙකකට අයත් ස්වර සංගති පහත දැක්වේ.

A- ස ස රි රි ගු ගු ම ම ප

B- ග රි ස ධ , ස රි ග , ස ධ ප ග ප ධ ස

- (1) ඉහත සඳහන් ස්වර ධණ්ඩ අයත් වන රාග දෙක නම් කරන්න. (ලකුණු 04)
- (2) එම රාග දෙකෙන් ඔබ කැමති එක් රාගයකට අයත් මධ්‍යලය ගීතයක අන්තරා කොටස ගීත ස්වර ප්‍රස්ථාර කරන්න. (ලකුණු 04)
- (3) එම ගීතයට ගැලපෙන හින්දුස්ථානී තාලය නම් කර ප්‍රස්ථාර කරන්න. (ලකුණු 04)

(03) පහත දැක්වෙනුයේ ශ්‍රී ලංකාවේ ජනප්‍රිය වූ නූර්ති හා නවනාට්‍ය ගීත කිහිපයක් මුල් පාදයන්ය.

- (i) වාසනා දිනේකි මේක පාමු තුටින් සිනේ.....
- (ii) සෝබාව දේ මෙපුර.....
- (iii) හෙළ ගැඹුරැයි - පුත නොබලන්
- (iv) දක්කොත් පත්මාවතී.....
- (v) ඇත කඳුකර හිමවි අරණේ
- (vi) ලියමු මේ සිංහල භාෂාවෙන්
- (vii) කුමටද සොබනියෙ කඳුළු සලන්නේ
- (viii) අහෝ දුක වාවන්ට බැ දන් මගේ දෙවියනේ

- (1) මෙම ගී පාදයන් “නූර්ති” හා “නවනාට්‍ය” යන දෙකොටසට වෙන් කර ලියන්න. (ලකුණු 04)
- (2) ඉන් ඔබ කැමති ගීතයක් ලියන්න. (ලකුණු 04)
- (3) ඉහත ගී පාද අතරින් ඔබ කැමති නූර්තියක් හා නවනාට්‍යයක් නම් කර එහි නිෂ්පාදකවරු දෙදෙනා නම් කරන්න. (ලකුණු 04)

(04) පහත දැක්වෙන්නේ නිර්දේශිත රාගයකට අයත් ස්වර බණ්ඩයකි.

“ස රි ග ම ප ම ග ම රි ස”

- (1) ඉහත ස්වර බණ්ඩය අයත් රාගය නම් කරන්න. (ලකුණු 03)
- (2) එම රාගයේ ආරෝහණ, වාදී, සංවාදී, ගාන සමය ලියා දක්වන්න. (ලකුණු 04)
- (3) එම ස්වර බණ්ඩය භාවිතා කරමින් සුදුසු තාලයකට ස්වර පේලි දෙකක් නිර්මාණය කරන්න. (ලකුණු 05)

(05)

A	B	C
මෝරා..... බීජයෙනා....	නොමදින් විකුම් පාලා...	ලක්ෂ්මී.... බුජ වාසා...

- (1) ඉහත අක්ෂර වලින් දක්වා ඇති ගී පාද අයත් ගීත වර්ගය නම් කරන්න. (ලකුණු 03)
- (2) පහත සඳහන් කරුණු එම අක්ෂරවලට නම් කර ඇති ගී පාද අයත් ගී වර්ගය අනුව වෙන්කර ලියන්න.
 - i) බෙරපදය, තානම, කවිය, කස්තීරම, සිරුමාරුව, අඩවිව ලෙස අංග හයකින් යුක්ත ය.
 - ii) ප්‍රභූන්ගේ ගුණ වර්ණනාත්මක ස්වරූපයෙන් ගායනා කරන ගීත විශේෂයකි.
 - iii) උඩරට සම්ප්‍රදායට අයත් මෙම කවි ගායනා, තානමකින් ආරම්භ කරයි.
 - iv) රජවාසලේ මෙම ගීත ගැයූ කණ්ඩායම හඳුන්වා ඇත්තේ වන්දිබට්ටයන් ලෙසය.
 - v) රජතුමා විසින් කරන ලද පරිශ්‍රමයන්, ජයග්‍රහණයන් වර්ණනා කරමින් ලියන ලද ගීත විශේෂයකි.(ලකුණු 05)
- (3) මෙම ගීත අතරින් ඔබ කැමති ගීතයක පද හතරක් ලියන්න. (ලකුණු 04)

(06)



- (1) ඉහත දැක්වෙන බටහිර ප්‍රස්ථාරය පෙරදිග ක්‍රමයට හරවා ලියන්න. (ලකුණු 04)
- (2) එම පෙරදිගට හැරවූ ප්‍රස්ථාරය මධ්‍යම භාවයෙන් ලියන්න. (ලකුණු 04)
- (3) මෙම සංකේත නම් කරන්න.



(ලකුණු 02)

- (4) මෙම ස්වර වටිනාකම්වලට අදාළ නාමයන් (අපරදිග) සඳහන් කරන්න.
 - (a) ♯ - (මාත්‍රා 4)
 - (c) ♭ - (මාත්‍රා 1)
 - (b) ♭ - (මාත්‍රා 2)
 - (d) ♯ - (මාත්‍රා 1/2)

(07) පහත සඳහන් මාතෘකා අතරින් 'තුනක්' තෝරාගෙන කෙටි සටහන් ලියන්න.

- (1) ශ්‍රී ලංකාවේ කණ්ඩායම් සංගීතය (ලක්ෂණ, ගායක කණ්ඩායම්, ප්‍රචලිත ගීත, ගායක ගායිකාවන්)
- (2) අපරදිග භාණ්ඩ වර්ගීකරණය (උදාහරණ සහිතව)
- (3) "ජන ගී ආශ්‍රිතව නිර්මාණය වූ සරල ගීත" (පදනම් කරගත් ජන කවි, ගීතයට පාදක වූ රිද්මය, ගීත ගැයූ ගායක ගායිකාවන්)
- (4) සංගීත ප්‍රසංගයක දී භාවිතාවන තාක්ෂණික මෙවලම්
- (5) ස්වරපුවරු සංගීත භාණ්ඩ

(ලකුණු 12)