

දකුණු පළාත් අධ්‍යාපන දෙපාර්තමේන්තුව  
தென் மாகாணக் கல்வித் திணைக்களம்  
Southern Provincial Department of Education

අධ්‍යයන පොදු සහතික පත්‍ර (උසස් පෙළ), 13 ශ්‍රේණිය, දෙවන වාර පරීක්ෂණය, 2020 මාර්තු  
General Certificate of Education (Adv. Level), Grade 13, Second Term Test, March 2020

ආර්ථික විද්‍යාව - I  
Economics - I

21 S I

පැය 02 යි  
Time: 02 hour

විභාග අංකය : .....

උපදෙස් :

- අංක 01 සිට 50 තෙක් ප්‍රශ්නවලට නිවැරදි පිළිතුරු තෝරා එම අංකය ප්‍රශ්නයට ඉදිරියෙන් ඇති තිත් ඉරි මත ලියන්න.

01. නිෂ්පාදනයේ කාර්යක්ෂමතාව පවතින ආර්ථිකයක,

- ජනතාවගේ වුවමනා ඉටුකරලීමට සම්පත් උපයෝජනය වෙයි.
- සම්පත් පූර්ණ හා උපරිම කාර්යක්ෂමතාවයෙන් නිෂ්පාදනයට යොදා ගැනෙයි.
- ජනතාව විභව නිමැවුම ඉක්ම වූ පරිභෝජන මට්ටමක් පවත්වා ගෙන යයි.
- ආර්ථික සාධාරණත්වය තහවුරු වෙයි.
- පරිභෝජන භාණ්ඩවලට වඩා ප්‍රාග්ධන භාණ්ඩ නිෂ්පාදනය වෙයි.

(.....)

02. පහත දැක්වෙන දෑ අතරින් සංසරණ ප්‍රාග්ධනයට අයත් වන්නේ මොනවා ද?

- |  |                                       |
|--|---------------------------------------|
| 1. ගොඩනැගිලි හා යන්ත්‍රෝපකරණ           | 2. ක්‍රීඩා සමාජ හා මරණාධාර සමිති      |
| 3. ආරෝග්‍යශාලා සහ පාසල්                | 4. අර්ධ නිම් ද්‍රව්‍ය හා අමු ද්‍රව්‍ය |
| 5. භාණ්ඩාගාර බිල්පත් සහ ව්‍යාපාර කොටස් |                                       |

(.....)

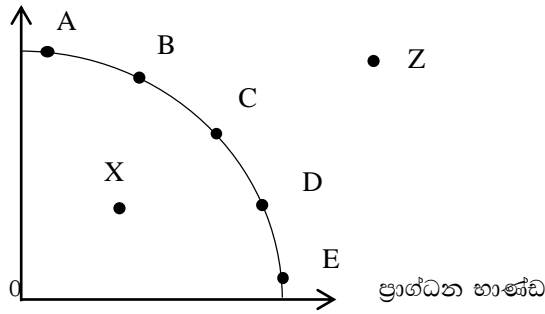
03. සමාජ සුභසාධනය සඳහා වඩා ක්‍රියාකාරී ලෙස රජය මැදිහත්වන ආර්ථික පද්ධතිය වන්නේ,

- |                                       |                                   |
|---------------------------------------|-----------------------------------|
| 1. මිශ්‍ර ආර්ථික පද්ධතියයි            | 2. සැලසුම් ආර්ථික පද්ධතියයි       |
| 3. වෙළෙඳපොළ ආර්ථික පද්ධතියයි          | 4. සමාජ වෙළෙඳපොළ ආර්ථික පද්ධතියයි |
| 5. සමාජවාදී වෙළෙඳපොළ ආර්ථික පද්ධතියයි |                                   |

(.....)

04.

පරිභෝජනය



ප්‍රස්තාර සටහනට අනුව ආර්ථිකය X සංයෝගයෙන් Z සංයෝගයට මාරු වූයේ නම්,

1. සම්පත් උගත උපයෝජනය වී අකාර්යක්ෂම නිමැවුමක් බිහි වේ.
2. සම්පත් අධි උපයෝජනය වී කාර්යක්ෂම නිමැවුමක් බිහි වේ.
3. සම්පත් කාර්යක්ෂමව උපයෝජනය වී මිනිස් වුවමනා ඉටු වේ.
4. සම්පත් අධි උපයෝජනය වී ආර්ථික වෘද්ධිය වේගවත් වේ.
5. සම්පත් අධි උපයෝජනය වී අකාර්යක්ෂම නිමැවුමක් බිහි වේ.

(.....)

05. ගිෆන් භාණ්ඩයක් සම්බන්ධයෙන් පහත සඳහන් ප්‍රකාශන අතුරින් නිවැරදි ප්‍රකාශය තෝරන්න.

මිල වෙනස් වීම	ආදේශන ප්‍රතිච්චාකය	ආදායම් ප්‍රතිච්චාකය	මිල ප්‍රතිච්චාකය
1. මිල ඉහළ යාම	සෘණ	ධන	සෘණ
2. මිල පහළ යාම	සෘණ	සෘණ	සෘණ
3. මිල පහළ යාම	සෘණ	ධන	සෘණ
4. මිල පහළ යාම	සෘණ	සෘණ	ධන
5. මිල ඉහළ යාම	ධන	සෘණ	සෘණ

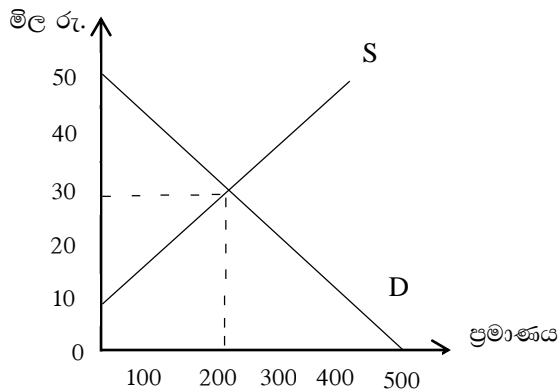
(.....)

06. ඩීසල් ලීටරයක මිල කිසියම් අනුපාතයකින් ඉහළ යන විට එහි ඉල්ලුම් ප්‍රමාණය එම අනුපාතයෙන්ම අඩුවනු ඇතැයි සිතන්න. වෙළෙඳපොළ මිල ඩීසල් ලීටරයක් රුපියල් 120 දී ඉල්ලුම් ප්‍රමාණය ලීටර 1000 ක් වනු ඇත. ඉල්ලුම් ප්‍රමාණය 800 ක් වනුයේ ඩීසල් ලීටරයක මිල කොපමණ වන විට දී ද?

- |               |                  |
|---------------|------------------|
| 1. රු. 100 යි | 2. රු. 144 යි    |
| 3. රු. 150 යි | 4. රු. 152.50 යි |
| 5. රු. 160 යි |                  |

(.....)

07. එක්තරා භාණ්ඩයක් සඳහා වෙළෙඳපොළ ඉල්ලුම් හා සැපයුම් වක්‍ර පහත රූප සටහනෙහි දැක්වේ.



සමතුලිත ප්‍රමාණය මිලදී ගැනීම සඳහා පාරිභෝගිකයන් විසින් ගෙවීමට කැමති මුළු මුදල් ප්‍රමාණය රුපියල්,

- |    |              |    |              |
|----|--------------|----|--------------|
| 1. | රු. 9 000 යි | 2. | රු. 8 000 යි |
| 3. | රු. 6 000 යි | 4. | රු. 4 500 යි |
| 5. | රු. 2 000 යි |    |              |

(.....)

08. Z භාණ්ඩය බාල භාණ්ඩයකි. පාරිභෝගික ආදායමේ සිදුවන ඉහළ යාමක් නිසා එම භාණ්ඩයෙහි,

1. ඉල්ලුම අඩුවේ. මිල අඩුවේ. ඉල්ලුම් කරනු ලබන ප්‍රමාණය අඩුවේ.
2. සැපයුම අඩුවේ. මිල වැඩිවේ. ඉල්ලුම් කරනු ලබන ප්‍රමාණය අඩුවේ.
3. ඉල්ලුම අඩුවේ. මිල අඩුවේ. ඉල්ලුම් කරනු ලබන ප්‍රමාණය වැඩිවේ.
4. ඉල්ලුම වැඩිවේ. මිල අඩුවේ. ඉල්ලුම් කරනු ලබන ප්‍රමාණය වැඩිවේ.
5. ඉල්ලුම වැඩිවේ. මිල වැඩිවේ. ඉල්ලුම් කරනු ලබන ප්‍රමාණය වැඩිවේ.

(.....)

09. භාණ්ඩයක සැපයුම වැඩි වී ඉල්ලුම අඩුවන විට,

1. සමතුලිත ප්‍රමාණය වැඩිවේ. මිල වෙනස්වන ආකාරය අවිනිශ්චිතය.
2. සමතුලිත මිල ඉහළ නගීය. සමතුලිත ප්‍රමාණය වෙනස්වන ආකාරය අවිනිශ්චිතය.
3. සමතුලිත ප්‍රමාණය අඩුවේ. මිල වෙනස්වන ආකාරය අවිනිශ්චිතය.
4. සමතුලිත මිලත් සමතුලිත ප්‍රමාණයත් පහළ වැටෙයි.
5. සමතුලිත මිල පහළ වැටෙයි. සමතුලිත ප්‍රමාණය වෙනස්වන ආකාරය අවිනිශ්චිතය.

(.....)

10. ශ්‍රී ලංකාවේ සහල් සඳහා පවතින ඉල්ලුමේ මිල නම්‍යතා සංගුණකය සෘණ එකට අඩු අගයක් ගනු ඇතැයි සිතන්න. මෙම තත්වය යටතේ සහල් සැපයුමේ අඩු වීමක් සිදු වුවහොත් පහත සඳහන් කවර ප්‍රතිඵලයක් හටගනු ලැබේ ද?

1. සහල් සඳහා වෙළෙඳපොළ අධි සැපයුම් තත්වක් හට ගනියි.
2. මුළු අයහාරය ඉහළ දමමින් මිල පහළ බසියි.
3. මුළු අයහාරය පහළ දමමින් මිල ඉහළ ගනියි.
4. මුළු අයහාරය පහළ දමමින් මිල නොවෙනස්ව පවතියි.
5. මුළු අයහාරය ඉහළ දමමින් මිල ඉහළ නගියි.

(.....)

11. ස්මාට් ජංගම දුරකතන සඳහා පාරිභෝගික අහිරුචිය වැඩි වී පාරිභෝගික ඉල්ලුම වැඩි වීමේ ප්‍රතිඵලයක් වශයෙන්,

1. නිෂ්පාදන අතිරික්තය, පාරිභෝගික අතිරික්තය සහ ආර්ථික අතිරික්තය වැඩිවනු ඇත.
2. නිෂ්පාදන අතිරික්තය, පාරිභෝගික අතිරික්තය වැඩි වුවත් ආර්ථික අතිරික්තය වෙනස් නොවනු ඇත.
3. නිෂ්පාදන අතිරික්තය අඩු වී පාරිභෝගික අතිරික්තය වැඩි වී ආර්ථික අතිරික්තය වැඩිවනු ඇත.
4. ආර්ථික අතිරික්තය පහළගොස් නිෂ්පාදන අතිරික්තය සහ පාරිභෝගික අතිරික්තය ඉහළයනු ඇත.
5. පාරිභෝගික අතිරික්තය පහළගොස් නිෂ්පාදන අතිරික්තය ඉහළගොස් ආර්ථික අතිරික්තය ද ඉහළ නංවනු ඇත.

(.....)

12. පහත සඳහන් ප්‍රකාශ අතුරින් වඩාත් ම නිවැරදි ප්‍රකාශය කුමක් ද?

1. භාණ්ඩයක වෙළෙඳපොළ මිල ඉහළ යාමක් ඉල්ලුම අඩු වීමට බලපානු ඇත.
2. එක් එක් මිල ගණන් යටතේ මිල දී ගැනීමට කැමති ඒ ඒ ප්‍රමාණය ඉල්ලුම් ප්‍රමාණය ලෙස හඳුන්වනු ඇත.
3. පාරිභෝගික ආදායමේ අඩු වීමක් නිසා ඉල්ලුම් සංකෝචනයක් ඇති වේ.
4. ඉල්ලුම් වක්‍රයක කිසියම් ලක්ෂ්‍යයකින් ඉල්ලුම ඉදිරිපත් වේ.
5. භාණ්ඩයක ඉල්ලුම් ප්‍රමාණයේ වෙනසට හේතු වනුයේ සලකා බලන භාණ්ඩයේ මිල වෙනස් වීමයි.

(.....)

13. එක්තරා භාණ්ඩයක් සඳහා පවත්නා සැපයුම අනම්‍ය බවත්, එහි ඉල්ලුම පූර්ණ අනම්‍ය බවත් සලකන්න. මෙම තත්ත්වය යටතේ අදාළ භාණ්ඩය මත නිෂ්පාදන බද්දක් පනවනු ලැබුවහොත් බදු බර,

1. ඉතා විශාල වශයෙන් ගැනුම්කරුවන් දරනු ලබයි.
2. ඉතා විශාල වශයෙන් විකුණුම්කරුවන් විසින් දරනු ලබයි.
3. මුළු මනින්ම ගැනුම්කරුවෝ දරනු ලබයි.
4. මුළු මනින්ම විකුණුම්කරුවෝ දරනු ලබයි.
5. ගැනුම්කරුවන් සහ විකුණුම්කරුවන් සම සමව දරනු ලබයි.

(.....)

14. සමතුලිත මිලට වඩා ඉහළ මිලක් නියම කරමින් පනවනු ලබන අවම මිල ප්‍රතිපත්තියක ප්‍රතිඵලයක් වනුයේ වෙළෙඳපොළෙහි,

- |                            |                            |
|----------------------------|----------------------------|
| 1. අධි සැපයුමක් හට ගැනීමය. | 2. අධි ඉල්ලුමක් හට ගැනීමය. |
| 3. සමතුලිත මිලක් ඇති වීමය. | 4. සැපයුම වැඩි වීමය.       |
| 5. ඉල්ලුම අඩු වීමය.        |                            |

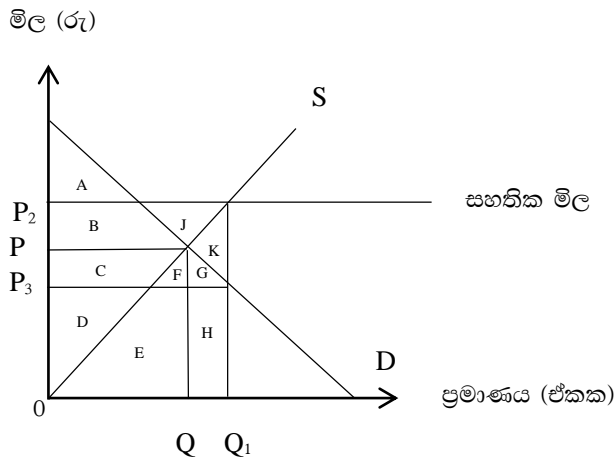
(.....)

15. එක්තරා පාරිභෝගික භාණ්ඩයක් සඳහා සාමාන්‍ය වෙළෙඳපොළ ඉල්ලුම් හා සැපයුම් වක්‍ර පවතියයි උපකල්පනය කරන්න. මෙම භාණ්ඩයට ඒකක සහනාධාරයක් ලබාදීම නිසා,

	පාරිභෝගික අතිරික්තය	නිෂ්පාදන අතිරික්තය	සමාජ ශුභ සාධනය
1.	වැඩි වේ	වැඩි වේ	වැඩි වේ
2.	අඩු වේ	වැඩි වේ	අඩු වේ
3.	අඩු වේ	අඩු වේ	අඩු වේ
4.	වැඩි වේ	වැඩි වේ	අඩු වේ
5.	වැඩි වේ	වැඩි වේ	වෙනස් නොවේ

(.....)

16. අවම මිල සහතික මිලක් සේ සලකමින් සිදුකරන උග්‍රපූරණ ගෙවීමේ ක්‍රමය පහත රූප සටහනෙන් දැක්වේ.



ප්‍රස්තාර සටහනේ දැක්වෙන තොරතුරු ඇසුරින් උග්‍රපූරණ ගෙවීමෙන් පසු නිවැරදි පිළිතුරු කාණ්ඩය වන්නේ,

	පාරිභෝගික අතිරික්තයේ වැඩි වීම	නිෂ්පාදන අතිරික්තයේ වැඩි වීම	පාරිභෝගික පැහැදීම
1.	A + B	C + D	D + E + H
2.	A + B + C + F + G	B + C + D + J	B + C + F + G + J + K
3.	F + G	J	K
4.	C + F + G	B + J	D + E + H
5.	B	C	D + E

(.....)

17. ගොඩනැගිලි යන්ත්‍ර සූත්‍ර යොදා ගනිමින් ශ්‍රමය අමු ද්‍රව්‍ය වැනි සාධක වැඩිකරමින් නිෂ්පාදනයේ යෙදෙන නිෂ්පාදන ආයතනයක යම් නිමැවුම් මට්ටමකින් පසු,

1. හීනවන පරිමාණකුල එල ඇති වේ.
2. හීනවන ආන්තික එල ඇති වේ.
3. වැඩෙන පරිමාණකුල එල ඇති වේ.
4. ස්ථාවර පරිමාණකුල එල ඇති වේ.
5. කෙටිකාලීන පිරිමැසුම් ඇත වේ.

(.....)

18. ව්‍යාපාර ආයතනයක X භාණ්ඩ 10 ක් නිපදවීමේ සාමාන්‍ය මුලු පිරිවැය (ඒකකයකට) රු.500 කි. X භාණ්ඩ ඒකක 10 සිට 11 දක්වා වැඩි වුවහොත් එක් අතිරේක ඒකකයක සාමාන්‍ය ස්ථාවර පිරිවැය රු.10 කින් ද සාමාන්‍ය විචල්‍ය පිරිවැය රු.10 කින් ද අඩු වේ. X භාණ්ඩ ඒකකයක ආන්තික පිරිවැය,

- |            |            |
|------------|------------|
| 1. රු. 10  | 2. රු. 20  |
| 3. රු. 280 | 4. රු. 380 |
| 5. රු. 420 |            |

(.....)

19. ආයතනයක් පූර්ණ තරඟකාරී වෙළෙඳපොළක කටයුතු කරයි. එම ආයතනය තම භාණ්ඩයේ මිල 5% කින් වැඩි කරයි නම් ආයතනයේ මුලු අයභාරය මත කවර බලපෑමක් ඇති කරනු ලබන්නේ ද?

1. මුලු අයභාරය වෙනස් නොවෙයි.
2. මුලු අයභාරය 5% කින් ඉහළ යයි.
3. මුලු අයභාරය 5% කට වඩා අඩු ප්‍රමාණයකින් ඉහළ යයි.
4. මුලු අයභාරය ශුන්‍ය වෙයි.
5. මුලු අයභාරය 5% කට වඩා වැඩි ප්‍රමාණයකින් ඉහළ යයි.

(.....)

20. වෙළෙඳපොළේ මිල රු. 24 ක්ව තිබිය දී ආයතනයේ ආන්තික අයභාරය ආන්තික පිරිවැයට සමාන වේ. නමුත් එම ආයතනයේ සාමාන්‍ය විචල්‍ය පිරිවැය රු. 28 මට්ටමේ පවතී. මේ තත්ත්වය යටතේ ආයතනය ගත යුතු තාර්කික තීරණය වනුයේ,

1. ආර්ථික ලාභ උපයමින් රැදී සිටීම.
2. පාඩු සහිත ව නිෂ්පාදනයේ යෙදී සිටීම.
3. ආර්ථික ලාභ ශුන්‍ය මට්ටමේ පවත්වා ගෙනයාම.
4. නිෂ්පාදනය අත්හිටුවීමට තීරණය කිරීම.
5. ව්‍යාපාර ආයතනයේ ධාරිතාව පුළුල් කිරීමට තීරණය කිරීම.

(.....)

21. පහත සඳහන් ප්‍රකාශ අතුරින් ඔබට එකඟවිය නොහැකි ප්‍රකාශය වනුයේ,

1. සාධක වල පවත්නා ඉල්ලුම භාණ්ඩවලට ඇති ඉල්ලුමෙන් ව්‍යුත්පන්න වන්නකි.
2. යම් සාධකයක් වෙනත් විකල්ප වලට මාරු නොවී පවත්නා පරිහරණයේ රඳවා ගැනීමට එම සාධකයට කළ යුතු අවම ගෙවීම සංක්‍රාම ඉපයුම් වෙයි.
3. යම් සාධකයක් වෙනත් විකල්පයකට මාරු නොවී පවත්නා පරිහරණයේ රඳවා ගැනීමට එම සාධකයට කළ යුතු අවම ගෙවීම ආර්ථික බදුකුලිය වේ.
4. කතිපයාධිකාරී වෙළෙඳපොළ තත්ත්වය තුළ මිල දැඩියාවක් පවතී.
5. යම් සාධකයක සැපයුම පූර්ණ නම්‍ය නම් එම සාධකයෙහි පැවැත්මට යම් මිලක් අනිවාර්යයෙන් අපේක්‍ෂා කරයි.

(.....)

22. ඒකාධිකාරී වෙළෙඳපොළක දැකගත හැකි ලක්‍ෂණයක් වන්නේ කුමක් ද?

1. ආයතනය හා කර්මාන්තය අතර වෙනසක් නැත.
2. මිල භාර ගන්නෙකු ලෙස කටයුතු කරයි.
3. සමීප ආදේශන බහුලව පවතී.
4. ප්‍රවේශයට බාධාවක් නොමැත.
5. මිල සෑම විටම ආන්තික පිරිවැයට සමාන වෙයි.

(.....)

23. පහත සඳහන් ප්‍රකාශ අතුරින් සාවද්‍ය ප්‍රකාශය තෝරන්න.

1. නිෂ්පාදනය කරන ලද භාණ්ඩ සහ සේවාවල මූල්‍යමය වටිනාකම්වල එකතුව නිමවුමේ දළ වටිනාකම ලෙස සැලකේ.
2. නිෂ්පාදන ක්‍රියාවලිය සඳහා පිටතින් ලබා ගන්නා භාණ්ඩ සහ සේවා අතරමැදි පරිභෝජනය ලෙස හඳුන්වයි.
3. ප්‍රාථමික යෙදවුම් ලෙස සැලකෙනුයේ නිෂ්පාදන ක්‍රියාවලියට යොදා ගැනෙන නිෂ්පාදන සාධක වේ.
4. නිමවුමේ දළ වටිනාකමින් ප්‍රාථමික යෙදවුම් වල වටිනාකම අඩු කළ විට දළ එකතු කළ අගය ලැබෙනු ඇත.
5. දළ එකතු කළ අගය යනු නිෂ්පාදන ක්‍රියාවලියේ දී අලුතින් ජනනය කෙරෙන වටිනාකමය. (.....)

24. පහත සඳහන් ප්‍රකාශ අතුරින් ඔබට එකඟවිය හැකි ප්‍රකාශය තෝරන්න.

1. රටක දේශීය ඉතුරුම් පෞද්ගලික ඉතුරුම් සහ ශුද්ධ අපනයන වලින් සමන්විත වේ.
2. වැය කළ හැකි පෞද්ගලික ආදායමින් පෞද්ගලික පරිභෝජන වියදම අඩු කළ විට දේශීය ඉතිරි කිරීම් ලැබෙනු ඇත.
3. දළ දේශීය ප්‍රාග්ධන වියදමට ශුද්ධ අපනයන එකතු කළ විට මුළු දේශීය ඉතුරුම් පරිමාව ලැබෙනු ඇත.
4. වැය කළ හැකි දළ ජාතික ආදායමින් දළ දේශීය ප්‍රාග්ධන සම්පාදන වියදම අඩු කිරීමෙන් ජාතික ඉතුරුම් ගණනය කරනු ඇත.
5. දළ දේශීය නිෂ්පාදනයට ශුද්ධ විදේශීය වර්තන සංක්‍රාම ගැලපීමෙන් දේශීය ඉතිරිකිරීම් ගණනය කරයි. (.....)

25. රටක දළ දේශීය නිෂ්පාදනයට පහත සඳහන් දෑ අතරින් කවරක් ඇතුළත් කෙරේ ද?

1. විශ්‍රාමික සේවකයෙක් උපයන විශ්‍රාම වැටුප
2. පාවිච්චි කළ මෝටර් රථ ආශ්‍රිත වෙළෙඳාමේ වටිනාකම
3. කුටුම්භයක් තුළ කුටුම්භ සාමාජිකයින් විසින් ඉටු කරනු ලබන සේවා වටිනාකම
4. නිවසේ ආහාර පිළියෙල කිරීම සහ ඒවා පිළිගැන්වීම
5. වැටුප් ලබන ගෘහ සේවකයන් විසින් ඉටු කරනු ලබන ගෘහ සේවාව (.....)

26. ආර්ථිකයක් පිළිබඳ කල්පිත දත්ත පහත දැක්වේ. (වටිනාකම රුපියල් මිලියන වලින්)

පෞද්ගලික පරිභෝජන වියදම	=	5 000
රාජ්‍ය පරිභෝජන වියදම	=	1 500
දළ දේශීය ප්‍රාග්ධන සම්පාදනය	=	3 500
තොග පරිලේඛණ වෙනස් වීම්	=	100
ශුද්ධ අපනයන	=	- 500
ස්ථාවර ප්‍රාග්ධන පරිභෝජන වියදම	=	200

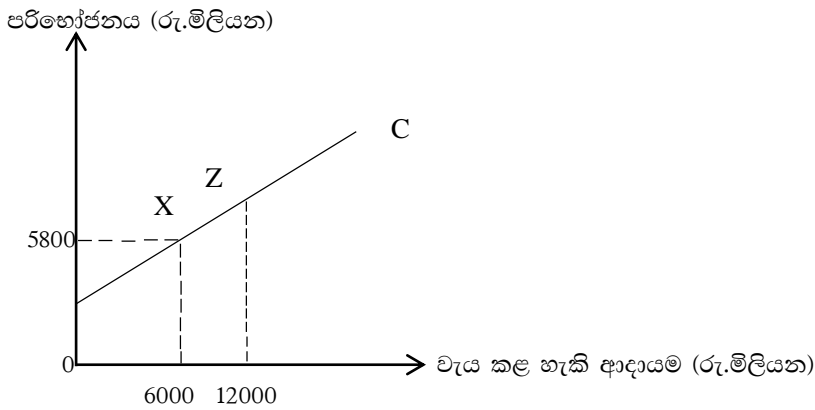
මෙම ආර්ථිකයේ දේශීය නිෂ්පාදනය (රුපියල් මිලියන වලින්)

- |           |          |
|-----------|----------|
| 1. 9 300  | 2. 9 400 |
| 3. 9 500  | 4. 9 600 |
| 5. 10 000 |          |
- (.....)

27. ආණ්ඩුවේ කටයුතු වලින් තොර ආර්ථිකයක ආයෝජන වියදම් ගුණකයෙහි අගය 10 කි. එම ආර්ථිකයේ ආයෝජන මට්ටම රුපියල් මිලියන 400 කින් වැඩි වුවහොත් පරිභෝජනය කොතරම් ප්‍රමාණයකින් වැඩිවනු ඇතිද? (රුපියල් මිලියන)

- |          |          |
|----------|----------|
| 1. 2 000 | 2. 2 400 |
| 3. 3 600 | 4. 4 000 |
| 5. 4 600 |          |
- (.....)

28. එක්තරා ආර්ථිකයක පරිභෝජන ශ්‍රිතයට අදාළ තොරතුරු පහත රූප සටහනේ දැක්වේ.



ප්‍රස්ථාර සටහනෙහි රේඛීය පරිභෝජන ශ්‍රිතය දැක්වේ. මෙම පරිභෝජන ශ්‍රිතයෙහි ස්වයංක්ෂ්‍ය පරිභෝජන වියදම 1000 ක් වේ නම් Z ලක්ෂ්‍යයේ දී මුළු පරිභෝජන වියදම කොපමණ ද? (රුපියල් මිලියන)

- |    |        |    |        |
|----|--------|----|--------|
| 1. | 14 000 | 2. | 12 400 |
| 3. | 10 600 | 4. | 9 600  |
| 5. | 8 400  |    |        |

(.....)

29. කිසියම් ආර්ථිකයක පූර්ණ සේවා නියුක්ති ආදායම් මට්ටම රුපියල් බිලියන 12000 ක් වනු ඇත. ආර්ථිකයේ සමතුලිත ජාතික ආදායම් මට්ටම රුපියල් මිලියන 9000 ක් වේ. මෙම ආර්ථිකයේ ආන්තික පරිභෝජන නැමියාව 0.75 ක් වේ. මෙම ආර්ථිකයට පූර්ණ සේවා නියුක්ති සමතුලිතය සම්පූර්ණ කර ගැනීමට වඩාත් යෝග්‍ය ක්‍රියාමාර්ගය වනුයේ,

1. ආණ්ඩුවේ වියදම රුපියල් මිලියන 3000 කින් ඉහළ නැංවීම.
2. රුපියල් මිලියන 1000 කින් සෘජු බදු වැඩි කිරීම.
3. රුපියල් මිලියන 750 කින් රාජ්‍ය බදු පැනවීම.
4. රුපියල් මිලියන 750 කින් ආයෝජන වියදම් ඉහළ නැංවීම.
5. ආණ්ඩුවේ වියදම් රුපියල් මිලියන 1000 කින් ඉහළ දැමීම.

(.....)

30. පහත සඳහන් මුදල් වර්ග අතුරින් විද්‍යුත් මුදල්වලට අයත් වන්නේ මොනවා ද?

- |    |                               |    |                                    |
|----|-------------------------------|----|------------------------------------|
| 1. | පදනම් මුදල් හා ආසන්න මුදල්    | 2. | තැන්පතු සහතික හා භාණ්ඩාගාර බිල්පත් |
| 3. | ණයපත් හා හරපත්                | 4. | ඉතුරුම් තැන්පත් හා ස්ථාවර තැන්පත්  |
| 5. | බැංකු මුදල් හා ව්‍යවහාර මුදල් |    |                                    |

(.....)

31. ද්‍රවශීලතාවරණය යනු,

1. කිසියම් වත්කමක් ප්‍රාග්ධන අලාභයකින් තොරව මුදල් බවට පත්කර ගැනීමේ හැකියාවයි.
2. මුදල් ශේෂ ලෙස තබා ගැනීමට මහජනතාව දක්වන කැමැත්තයි.
3. වාණිජ බැංකු මහ බැංකුවේ පවත්වා ගන්නා සංචිත අවශ්‍යතාවයි.
4. වාණිජ බැංකු වත්කම් ව්‍යුහය තුළ පවතින ද්‍රවශීලතා වත්කම් ප්‍රමාණයයි.
5. මහජනතාව අතැති ව්‍යවහාර මුදල් ප්‍රමාණයයි.

(.....)

32. ගනුදෙනු හා ආරක්ෂණ වේතනාවෙන් මුදලට ඇති ඉල්ලුම තීරණය කරන ප්‍රධාන සාධකය වන්නේ,

- |    |              |    |                |
|----|--------------|----|----------------|
| 1. | පොලී අනුපාතය | 2. | මුද්‍රිත ආදායම |
| 3. | පිළිණපත් මිල | 4. | මුදල් සැපයුම   |
| 5. | පදනම් මුදල්  |    |                |

(.....)

33. පිරිවැයෙන් තල්ලු වූ උද්ධමනය පාලනය කිරීම සඳහා යොදාගත හැකි සැපයුම් පාර්ශවීය ප්‍රතිපත්තිය වන්නේ,

1. බදු කපා හැරීම.
2. ශ්‍රමික වැටුප් වැඩි කිරීම.
3. අයවැය හිඟය අඩු කිරීම.
4. වාණිජ බැංකු වලින් ලබා දෙන ණය සීමා කිරීම.
5. පාලන මිල ගණන් නියම කිරීම.

(.....)

34. නිරුද්ධමනය යනු,

1. පොදු මිල මට්ටම පහළ බැසීමයි.
2. ඉල්ලුමෙන් ඇදුණු උද්ධමනය අඩු වීමයි.
3. පොදු මිල මට්ටම් ඉහළ යාමේ වේගය අඩු වීමයි.
4. උද්ධමන වේගය ශුන්‍ය වීමයි.
5. මාසික උද්ධමන වේගය 10% ට වඩා වැඩි වීමයි.

(.....)

35. උද්ධමනාත්මක නිමැවුම් පරතරය යනු,

1. සැබෑ නිමවුම විභව නිමවුමට වඩා අඩු වීමෙන් හටගන්නා සෘණ නිමැවුම් පරතරයයි.
2. සැබෑ නිමවුම විභව නිමවුම ඉක්මවා යාමෙන් හටගන්නා ධනාත්මක නිමවුම් පරතරයයි.
3. පූර්ණ සේවා නියුක්ති මට්ටම ඉක්මවා ඉහළ යන සමාහාර වියදම් මට්ටමයි.
4. පූර්ණ සේවා නියුක්ති මට්ටමට අඩුවෙන් පවතින සමාහාර වියදම් මට්ටමයි.
5. පූර්ණ සේවා නියුක්ති මට්ටමට සමාන වූ සැබෑ නිමවුම් මට්ටමක් බිහි වීමයි.

(.....)

36. වාණිජ බැංකුවක මූලික හා ප්‍රාථමික කාර්යය වන්නේ,

1. වෙක්පත් මගින් ගනුදෙනු කළ හැකි ඉල්ලුම් තැන්පතු භාරගැනීමයි.
2. තැන්පතු භාරගැනීම හා මුදල් ණයට දීමයි.
3. නියෝජිත සේවා සැපයීමයි.
4. පොදු උපයෝගීතා සේවා සැපයීමයි.
5. ණය දීමෙන් මුදල් මැවීමයි.

(.....)

37. මුදල් නීති පනත අනුව ලංකාවේ වාණිජ බැංකුවක් පවත්වා ගත යුතු අවම ද්‍රවශීල වත්කම් අනුපාතය වන්නේ,

- |                          |                         |
|--------------------------|-------------------------|
| 1. සියයට හතකි. (7%)      | 2. සියයට දහයකි. (10%)   |
| 3. සියයට දොළහකි. (12%)   | 4. සියයට විස්සකි. (20%) |
| 5. සියයට තිස්හයකි. (36%) |                         |

(.....)

38. ගැලපීම් වලින් පසු අවසාන මූල්‍ය තත්ත්වය පෙන්නුම් කරන බැංකු පද්ධතියේ ඒකාබද්ධ ශේෂ පත්‍රයක් මතු දැක්වේ.

බැංකු පද්ධතියේ ශේෂ පත්‍රය (රු.මිලියන)

	වගකීම්		වත්කම්
තැන්පතු	10 000	සංචිත ණය	1 000 9 000
එකතුව	<u>10 000</u>	එකතුව	<u>10 000</u>

ඉහත තත්ත්වය අනුව ආරම්භක වාණිජ බැංකුවේ පැවතිය හැකි අධි සංචිත ප්‍රමාණය වන්නේ,

- |                            |                            |
|----------------------------|----------------------------|
| 1. රුපියල් මිලියන 100 කි.  | 2. රුපියල් මිලියන 900 කි.  |
| 3. රුපියල් මිලියන 1000 කි. | 4. රුපියල් මිලියන 1100 කි. |
| 5. රුපියල් මිලියන 2000 කි. |                            |

(.....)



39. ශ්‍රී ලංකා මහ බැංකුවේ ප්‍රධාන කාර්යයක් නොවන්නේ කුමක් ද?

1. මූල්‍ය ප්‍රතිපත්තිය මෙහෙය වීම.
2. ශ්‍රී ලංකාවේ නිල ජාත්‍යන්තර සංචිත කළමනාකරණය කිරීම.
3. බැංකුවල බැංකුකරු ලෙස ක්‍රියාකිරීම.
4. රාජ්‍ය ණය කළමනාකරණය.
5. ව්‍යවහාර මුදල් නිකුත් කිරීම.

(.....)

40. මහ බැංකුව විසින් රජයේ සුරැකුම්පත් විවෘත වෙළෙඳපොළෙන් මිල දී ගනු ලැබුවහොත් එහි ප්‍රතිඵලයක් වශයෙන් පහත සඳහන් දෑ අතුරෙන් කවරක් සිදුවෙනැයි අපේක්‍ෂා කෙරේ ද?

1. ණය සඳහා අයකරන පොලී අනුපාතිකය පහළ යාම.
2. මුර්ත දළ දේශීය නිෂ්පාදිතය පහළ යාම.
3. ආර්ථිකයේ මුදල් සැපයුම සංකෝචනය වීම.
4. පෞද්ගලික අංශයේ ආයෝජන අඩාල වීම.
5. බැංකු විසින් සපයනු ලබන ණය ප්‍රමාණය අඩු වීම.

(.....)

41. පහත සඳහන් දෑ අතරින් අර්ධ පොදු භාණ්ඩ වන්නේ,

1. නිවාස හා පරිගණක
2. පිරිසිදු වාතය හා ඛනිජ තෙල් නිධි
3. නීතිය හා මාර්ග සංඥා
4. පුස්තකාල හා කෞතුකාගාර
5. ප්‍රදීපාගාර සහ ආලෝක සංඥා

(.....)

42. ශුභ සාධන භාණ්ඩවල දැකිය හැකි සුවිශේෂ ලක්‍ෂණය වන්නේ,

1. පරිභෝජනය තරඟකාරී වීම.
2. පරිභෝජනය සීමාකළ හැකි වීම.
3. පෞද්ගලික ප්‍රතිලාභ ඉක්ම වූ සමාජ ප්‍රතිලාභ පැවතීම.
4. පරිභෝජනය තරඟකාරී නොවීම.
5. ඉතා විශාල සමාජ පිරිවැයක් සහිත වීම.

(.....)

43. වෙළෙඳපොළ කාර්යක්‍ෂම නිමවුම ඉක්ම වූ අධි නිෂ්පාදනයක් බිහිවිය හැක්කේ,

1. පරිභෝජනයේ සහ නිෂ්පාදනයේ ධන බාහිරතා පවතින විට
2. පරිභෝජනයේ සහ නිෂ්පාදනයේ සෘණ බාහිරතා පවතින විට
3. පරිභෝජනයේ ධන බාහිරතා සහ නිෂ්පාදනයේ සෘණ බාහිරතා පවතින විට
4. නිෂ්පාදනයේ ධන බාහිරතා සහ පරිභෝජනයේ සෘණ බාහිරතා පවතින විට
5. ආන්තික පෞද්ගලික පිරිවැය ආන්තික සමාජ පිරිවැයට සමාන වන විට

(.....)

44. ව්‍යවස්ථාපිත බදු ආපාතයෙන් දැක්වෙන්නේ,

1. බදු බර පාරිභෝගිකයා හා නිෂ්පාදකයා අතර බෙදී යන ආකාරයයි.
2. පාරිභෝගික බදු බරයි.
3. නිෂ්පාදන බදු බරයි.
4. බද්දක් විතැන් කිරීමේ හැකියාවක් ඇත් ද? යන්නයි.
5. නෛතික වශයෙන් රජයට බදු ගෙවන්නේ කවුරුන් ද? යන්නයි.

(.....)

45. ශ්‍රී ලංකාවේ බදු ව්‍යුහය තුළ වැඩි ම ආදායමක් ලබා දෙන බදු වර්ග වන්නේ,

1. නිෂ්පාදන බදු සහ ආදායම් බදු	2. නිෂ්පාදන බදු සහ එකතු කල අගය මත බදු
3. ආදායම් බදු සහ ආනයන බදු	4. ආදායම් බදු සහ එකතු කල අගය මත බදු
5. නිෂ්පාදන බදු සහ ආනයන බදු	

(.....)

46. ශ්‍රී ලංකාවේ මෑත කාලීන වර්තන වියදම් ව්‍යුහය තුළ වැඩිම වියදමක් දැරීමට සිදු වන තනි අයිතමය වන්නේ,

1. වැටුප් හා වේතන සඳහා දරන වියදම්
2. විශ්‍රාම වැටුප් සඳහා දරන වියදම්
3. රාජ්‍ය ණය පොළී ගෙවීම් සඳහා දරන වියදම්
4. මූර්ත වත්කම් අත්පත් කර ගැනීමට දරන වියදම්
5. ශුද්ධ ණය දීම් සඳහා දරන වියදම්

(.....)

47. අයවැය හිඟය පියවීමේ දී යොදා ගන්නා ණය සේවාකරණ ගෙවීම් කෙරෙහි බලපෑමක් ඇති නොවන මූලාශ්‍රය වන්නේ,

1. විදේශ ප්‍රදාන	2. විදේශ ආධාර
3. වාණිජ ණය	4. බැංකු නොවන වෙළෙඳපොළ ණය
5. බහු පාර්ශවීය ණය	

(.....)

48. පහත සඳහන් ක්‍රියාමාර්ග අතරින් ප්‍රසාරණාත්මක රාජ්‍ය මූල්‍ය ප්‍රතිපත්තියකට අනුකූල වන ක්‍රියාමාර්ගය කුමක් ද?

1. මහ බැංකුව වාණිජ බැංකු වලින් භාණ්ඩාගාර බිල්පත් මිලට ගැනීම.
2. වාණිජ බැංකු වලින් ආර්ථිකයට සැපයෙන ණය ප්‍රසාරණය කිරීම.
3. රජය කුටුම්භ සහනාධාර වියදම් ඉහළ නැංවීම හා වැටුප් වැඩි කිරීම.
4. බදු අනුපාත ඉහළ නැංවීම හා ප්‍රාග්ධන වියදම් කපා හැරීම.
5. මහ බැංකුව ව්‍යවස්ථාපිත සංචිත අවශ්‍යතා වැඩි කිරීම.

(.....)

49. පහත සංඛ්‍යා සටහනින් දැක්වෙන්නේ බයිසිකල් හා ඇගලුම් ඒකක එක බැගින් නිෂ්පාදනය කිරීමට ඉන්දියාවට හා ශ්‍රී ලංකාවට වැය කළ යුතු වන ශ්‍රම දින ගණන්ය.

	ශ්‍රී ලංකාව	ඉන්දියාව
බයිසිකල්	80	48
ඇගලුම්	16	12

මෙම තත්ත්වය යටතේ විදේශීය වෙළෙඳාමට පිවිසිය හොත්,

1. ශ්‍රී ලංකාව ඇගලුම් හා ඉන්දියාව බයිසිකල් අපනයනය සඳහා සූදානම් වීම දෙරටටම වාසි ගෙන දෙයි.
2. ශ්‍රී ලංකාව ඇගලුම් හා ඉන්දියාව බයිසිකල් ආනයනය කිරීමට සූදානම් වීම දෙරටටම වාසි ගෙන දෙයි.
3. ශ්‍රී ලංකාවට කිසිම භාණ්ඩයකින් සාපේක්ෂ වාසි නොපවතින නිසා පාඩු සිදු වෙයි.
4. දෙරට අතර මෙම භාණ්ඩ දෙක අතර වෙළෙඳාමක් බිහි වීමකට කිසිදු පදනමක් නැති නිසා දෙරටටම අවාසි ගෙන දෙයි.
5. තිරපේක්ෂ වාසිය යටතේ පමණක් වෙළෙඳාමට පදනමක් සැකසෙයි.

(.....)

50. යම් දෙන ලද කාලපරිච්ඡේදයක් තුළ අපනයන මිල 20% කින් ඉහළ ගොස් ආනයන මිල 60% කින් ඉහළ ගියේ නම් වෙළෙඳ අනුපාතය,

1. 16% කින් යහපත් වෙයි.	2. 20% කින් යහපත් වෙයි.
3. 25% කින් යහපත් වෙයි.	4. 40% කින් අයහපත් වෙයි.
5. 25% කින් අයහපත් වෙයි.	

(.....)

දකුණු පළාත් අධ්‍යාපන දෙපාර්තමේන්තුව  
தென் மாகாணக் கல்வித் திணைக்களம்  
Southern Provincial Department of Education

අධ්‍යයන පොදු සහතික පත්‍ර (උසස් පෙළ), 13 ශ්‍රේණිය, දෙවන වාර පරීක්ෂණය, 2020 මාර්තු  
General Certificate of Education (Adv. Level), Grade 13, Second Term Test, March 2020

ආර්ථික විද්‍යාව - II  
Economics - II

21 S II

පැය 03 සි විනාඩි 10  
Time:03hr & 10mts

විභාග අංකය : .....

උපදෙස් :

- 'අ' කොටසින් අවම වශයෙන් ප්‍රශ්න දෙකක් ද 'ආ' කොටසින් අවම වශයෙන් ප්‍රශ්න දෙකක් ද ඇතුළුව ප්‍රශ්න 05 කට පිළිතුරු සපයන්න.

'අ' කොටස

01. i. ශ්‍රමය හා මානව ප්‍රාග්ධනය හඳුන්වා ඒ අතර පවතින වෙනස්කම් පැහැදිලි කරන්න. (ලකුණු 04)
- ii. ආර්ථිකයක් සතු සම්පත් සම්භාරය ප්‍රාග්ධන භාණ්ඩ නිෂ්පාදනය සඳහා වැඩි ප්‍රමාණයක් ද පරිභෝජන භාණ්ඩ නිෂ්පාදනය සඳහා අඩු ප්‍රමාණයක් ද උපයෝජනය කිරීමෙන් බිහිවිය හැකි වර්තමාන හා අනාගත ආර්ථික ප්‍රතිවිපාක පැහැදිලි කරන්න. (ලකුණු 04)
- iii. ඉතුරුම් ආයෝජනය හා ප්‍රාග්ධනය යන සංකල්ප හඳුන්වා ඒ අතර පවතින සම්බන්ධතාව දක්වන්න. (ලකුණු 04)
- iv. නිෂ්පාදනය පිළිබඳ ගැටළුව හඳුන්වන්න.  
වෙළෙඳපොළ ආර්ථිකයක් එම ගැටළුව විසඳා ගැනීමට කටයුතු කරන්නේ කෙසේ ද? (ලකුණු 04)
- v. මිලෙහි කාර්යයන් අතරින් තීරණ ගන්නා ඒකක වලට සංඥා සැපයීම හා සලාකකරණය යන කාර්යයන් පැහැදිලි කරන්න. (ලකුණු 04)
02. i. ඉල්ලුම් ප්‍රසාරණය සහ ඉල්ලුම අඩුවීම එකිනෙක ප්‍රතිවිරුද්ධ සංකල්ප දෙකකි. ඔබ පිළිගන්නෙහි ද? පැහැදිලි කරන්න. (ලකුණු 04)
- ii. භාණ්ඩයක සැපයුමේ මිල නම්‍යතාවය ගණනය කළවිට ධන එකට අඩු අගයක්, ධන එකට වැඩි අගයක් ලෙස පිහිටනු ඇත. එසේ වීමට හේතු පැහැදිලි කරන්න. (ලකුණු 04)
- iii. "කුටුම්භයක ආදායම 40% කින් වැඩිවන විට අත්‍යවශ්‍ය පාරිභෝගික භාණ්ඩ සඳහා පවතින ඉල්ලුම 40% කින් වැඩි වේ." අදාළ ආර්ථික විද්‍යා සංකල්පය යොදා ගනිමින් ඉහත ප්‍රකාශය තහවුරු කරන්න. (ලකුණු 04)
- iv. 'පාරිභෝගික අතිරික්තය' 'නිෂ්පාදන අතිරික්තය' යන සංකල්ප රූප සටහනක් භාවිතා කරමින් පැහැදිලි කරන්න. (ලකුණු 04)

- v. තරඟකාරී වෙළෙඳපොළක අලෙවි වන එක්තරා භාණ්ඩයක ඉල්ලුම් සැපයුම් වක්‍ර සරල රේඛීය වේ. භාණ්ඩයේ වෙළෙඳපොළ තොරතුරු පහත දැක්වේ.

මිල (රුපියල්)	අධි ඉල්ලුම් ප්‍රමාණය (ඒකක)
60	1600
120	-800

- අ) ප්‍රස්තාර සටහනක් නිර්මාණය කර සමතුලිත මිල ඉදිරිපත් කරන්න. (ලකුණු 02)  
 ආ) සෑම මිලකදී ඉල්ලුම් ප්‍රමාණය ඒකක 400 බැගින් වැඩි වන්නේ නම් නව සමතුලිත මිල දක්වන්න. (ලකුණු 02)

03. i. තරඟකාරී වෙළෙඳපොළක ගැනුම්කරුවන්ගේ හා විකුණුම්කරුවන්ගේ අපේක්ෂාවන් තුලනය වීම වෙළෙඳපොළ සමතුලිතයක දී සිදුවුවත් වෙළෙඳපොළට රජය මැදිහත් වන්නේ ඇයි දැයි සඳහන් කොට මෙලෙස වෙළෙඳපොළට රජය මැදිහත් වන ප්‍රධාන ආකාර හතරක් සඳහන් කරන්න. (ලකුණු 04)

- ii. වෙළෙඳපොළ මිල යන්ත්‍රය යටතේ තීරණය වූ සහල් මිල පාරිභෝගිකයාට අසාධාරණ වෙනැයි සිතූ ආණ්ඩුව සහල් සඳහා උපරිම මිලක් නියම කළේ යැයි සිතන්න. මෙම තත්ත්වය රූප සටහනක පෙන්වා ඒ තුළින් හටගත හැකි ප්‍රතිඵල සඳහන් කරන්න. (ලකුණු 04)

- iii. නිදහස් තරඟකාරී වෙළෙඳපොළකට අදාළ ඉල්ලුම් හා සැපයුම් සමීකරණ මතු දැක්වේ.

$$Q_d = 100 - 10p \quad (\text{ඉල්ලුම් සමීකරණ}) \quad Q_s = -20 + 20p \quad (\text{සැපයුම් සමීකරණ})$$

නිෂ්පාදකයින්ට සාධාරණයක් ඉටුකිරීම සඳහා මිල රුපියල් 6.00 සහතික මිලක් ලෙස නියම කරනු ලැබේ.

- අ) සහතික මිල යටතේ පාරිභෝගිකයන් මිල දී ගනු ලබන ප්‍රමාණය කොපමණ ද? (ලකුණු 02)  
 ආ) සහතික මිල යටතේ වෙළෙඳපොළ තුළ බිහිවන අතිරික්ත සැපයුම හා එම අතිරික්ත සැපයුම මිල දී ගැනීම සඳහා රජයට දැරීමට සිදුවන පිරිවැය කොපමණ ද? (ලකුණු 02)  
 ඉ) රජය මිල දී ගත් අතිරික්තය සම්බන්ධයෙන් අනුගමනය කළ හැකි ක්‍රියාමාර්ග දෙකක් සඳහන් කරන්න. (ලකුණු 02)  
 ඊ) සහතික මිල යටතේ රජය අතිරික්තය මිල දී ගැනීමෙන් පසු නිෂ්පාදන අතිරික්තය කොපමණ ද? (ලකුණු 02)

- iv. “භාණ්ඩයක සැපයුම් ප්‍රමාණය ඉහළ ගිය ද නිෂ්පාදකයන්ගේ මුළු අලෙවි ආදායම පහත බැසීමක් වාර්තා වී ඇත.”

- අ) මෙවැනි තත්ත්වයක් විශේෂයෙන් හටගන්නේ කිනම් භාණ්ඩ සම්බන්ධයෙන් ද?  
 ආ) අදාළ භාණ්ඩ සම්බන්ධයෙන් එවැනි තත්ත්වයක් හටගැනීම මූලික හේතුව කුමක් ද?  
 ඉ) මිල ගණන් අස්ථායී වීම වැලැක්වීම සඳහා රජයට ගතහැකි ක්‍රියාමාර්ග දෙකක් සඳහන් කරන්න. (ලකුණු 04)

04. අ) i. “ව්‍යාපාර ආයතනයක ගණකාධිකාරී ලාභ ආර්ථික ලාභ වලට වඩා වැඩි වේ.” පැහැදිලි කරන්න. (ලකුණු 02)

- ii. හිතවත ආන්තික එල ව්‍යාපාර ආයතනයක ආන්තික පිරිවැය කෙරෙහි සහ හිතවත පරිමාණකුල එල දිගු කාලීන සාමාන්‍ය පිරිවැය කෙරෙහි බලපාන ආකාරය පැහැදිලි කරන්න. (ලකුණු 03)

- ආ) i. පූර්ණ තරඟකාරී ආයතනයක් මුහුණ දෙන ඉල්ලුම් වක්‍රයේ හැඩය කවර ස්වරූපයක් ගනු ලබන්නේ ද එසේ වීමට හේතුව ඔබ පැහැදිලි කරන්නේ කෙසේ ද? (ලකුණු 04)

- ii. “පූර්ණ තරඟ ව්‍යාපාර ආයතන ප්‍රමාණික ලාභ ලබමින් කටයුතු කිරීම සතුටු විය හැකි තත්ත්වයක් මිස අසතුටු විය හැකි තත්ත්වයක් නොවේ.” පැහැදිලි කරන්න. (ලකුණු 04)

iii. කෙටි කාලයෙහි නිෂ්පාදනයෙහි නිරතව සිටින ආයතනයක මුළු අයභාරය රුපියල් මිලියන 1000 ක් බවත් , මුළු ස්ථාවර පිරිවැය රුපියල් මිලියන 4000 ක් බවත් වාර්තා කරයි. මෙම තත්ත්වය යටතේ එම ආයතනය තව දුරටත් නිෂ්පාදනයේ රැඳී සිටිය යුතු ද? එසේ නම් ඒ ඇයිදැයි පැහැදිලි කරන්න. (ලකුණු 04)

iv. සාපේක්ෂ වශයෙන් අනමා සැපයුමක් සහිත සාධකයක සංක්‍රාම ඉපැයුම් සහ ආර්ථික බදුකුලිය රූප සටහනක් මගින් පැහැදිලි කරන්න. (ලකුණු 03)

05. i. ජාතික ආදායම් සංඛ්‍යා ලේඛණ ප්‍රයෝජනවත් වන්නේ කවර ආකාරයන්ගෙන් ද? (ලකුණු 04)

ii. කල්පිත ආර්ථිකයක් සඳහා පහත සඳහන් දත්ත ඔබ වෙත දී ඇත.

(රුපියල් මිලියන)

සේවක ආදායම්	=	4 500
ශුද්ධ මෙහෙයුම් අතිරික්තය	=	7 000
ස්ථාවර ප්‍රාග්ධන පරිභෝජනය	=	500
මිශ්‍ර ආදායම්	=	1 000
නිෂ්පාදනය මත වෙනත් බදු (අඩුකලා එම සහනාධාර)	=	1 200
නිෂ්පාදිතය මත බදු	=	1 800
නිෂ්පාදිතය මත සහනාධාර	=	400
විදේශීය ප්‍රාථමික ආදායම් ලැබීම්	=	950
විදේශීය ප්‍රාථමික ආදායම් ගෙවීම්	=	1 450
විදේශීය ජංගම සංක්‍රාම ලැබීම්	=	2 400
විදේශීය ජංගම සංක්‍රාම ගෙවීම්	=	600
භාණ්ඩ හා සේවා අපනයන	=	1 300
භාණ්ඩ හා සේවා ආනයන	=	2 300
මුළු පරිභෝජන වියදම	=	12 600

ඉහත දත්ත පදනම් කර ගනිමින් පහත සඳහන් දෑ ගණනය කරන්න.

- අ) දළ දේශීය නිෂ්පාදිතය (ලකුණු 03)
- ආ) දළ ජාතික ආදායම (ලකුණු 02)
- ඉ) වැය කළ හැකි දළ ජාතික ආදායම (ලකුණු 02)
- ඊ) දළ ජාතික ඉතිරිකිරීම් (ලකුණු 02)
- උ) දළ දේශීය ප්‍රාග්ධන සම්පාදන වියදම (ලකුණු 02)

iii. දෙන ලද කාලසීමාවක දී කිසියම් ආර්ථිකයක ආයෝජනය රුපියල් මිලියන 400 කි. රාජ්‍ය මිලදී ගැනීම් රුපියල් මිලියන 300 කි. ශුද්ධ බදු රුපියල් මිලියන 400 කි. ආර්ථිකයේ පරිභෝජන ශ්‍රිතය  $C = 100 + 0.8yd$  වේ.

අ) රාජ්‍ය වියදම් ගුණකය සහ බදු ගුණකය ගණනය කරන්න. (ලකුණු 02)

ආ) මෙම ආර්ථිකයේ පූර්ණ සේවා නියුක්ති ආදායම් මට්ටම 4000 ක් ලෙස පිළිගන්න. පූර්ණ සේවා නියුක්ති මට්ටම කරා ලඟා වීමට ආයෝජන වියදම් කොපමණ වැඩි කළ යුතු ද? නැතිනම් එයට විකල්ප ක්‍රියාමාර්ගයක් ලෙස බදු ආදායම අඩු කරන්නේ නම්, බදු කොපමණ ප්‍රමාණයකින් අඩු කිරීම ප්‍රමාණවත් වේද?

(ලකුණු 03)

‘ආ’ කොටස

06. i. ව්‍යවහාර මුදල් හා ආසන්න මුදල් අතර වෙනස පැහැදිලි කරන්න. (ලකුණු 04)
- ii. අ) මුදල් සැපයුම ගණනය කිරීමේ වැදගත්කම කුමක් ද? (ලකුණු 02)
- ආ) M<sub>2</sub>b ඒකාබද්ධ පුළුල් මුදල් සැපයුම තුළ ඇතුළත් ආසන්න මුදල් සංරචක මොනවා ද? (ලකුණු 02)
- iii. පහත සඳහන් ක්‍රියාමාර්ග පදනම් මුදල් හා මුදල් සැපයුම කෙරෙහි ඇති කරන බලපෑම කෙටියෙන් පැහැදිලි කරන්න.
- අ) මහ බැංකුව ශ්‍රී ලංකාවේ රජයට පරිත්‍යාගයක් ලෙස ලැබුණු ඩොලර් මිලියන 400 ක් මිලදී ගැනීම.
- ආ) මහ බැංකුව විසින් වාණිජ බැංකුවලට රුපියල් මිලියන 10 ක භාණ්ඩාගාර බිල්පත් අලෙවි කිරීම.
- ඉ) මහ බැංකුව විදේශ විනිමය වෙළෙඳපොළෙහි ඩොලර් 500 ක අලෙවි කිරීම. (ලකුණු 06)
- iv. උද්ධමනය පහත සඳහන් පාර්ශව කෙරෙහි ඇති කරන බලපෑම කෙටියෙන් දක්වන්න.
- |                   |                 |
|-------------------|-----------------|
| අ) රාජ්‍ය සේවකයන් | ආ) ණයගැතියන්    |
| ඉ) විනිමය අනුපාතය | ඊ) ඉතිරිකරන්නන් |
- (ලකුණු 04)
- v. පොදු මිල මට්ටම මැනීමේ මිනුමක් ලෙස නිෂ්පාදකයාගේ මිල දර්ශකයේ වැදගත්කම කුමක් ද? (ලකුණු 02)

07. i. මූල්‍ය ආයතන ලෙස ලංකා බැංකුව හා ශ්‍රී ලංකා මහ බැංකුව අතර පවතින ප්‍රධාන වෙනස්කම් මොනවා ද? (ලකුණු 04)
- ii. බැංකු තැන්පතු ප්‍රසාරණ සංගුණකය යනු කුමක් ද? එහි අගය තීරණය වන්නේ කෙසේ දැයි නිදසුනක් ඇසුරින් පැහැදිලි කරන්න. (ලකුණු 04)
- iii. කිසියම් කල්පිත ආර්ථිකයක වාණිජ බැංකු පද්ධතිය තුළ කටයුතු කරන එක් වාණිජ බැංකුවල මූල්‍ය තත්ත්ව ප්‍රකාශනය (ශේෂ පත්‍රය) පහත දැක්වේ. (සංඛ්‍යා රුපියල් මිලියන වලිනි)

වගකීම්		වත්කම්	
තැන්පතු	200 000	සංචිත	30 000
කොටස් ප්‍රාග්ධනය	50 000	සුරැකුම්පත්	60 000
		ණය	160 000
එකතුව	250 000	එකතුව	250 000

- අ) ව්‍යවස්ථාපිත සංචිත අනුපාතය 10% ක් නම් මෙම බැංකුව සතුව අධි සංචිත තිබේද? එසේ නම් එය කොපමණ ද? (ලකුණු 02)
- ආ) මෙම බැංකුවට අළුතින් ලබාදිය හැකි උපරිම ණය ප්‍රමාණය ලබාදුනහොත් බැංකුවේ මූල්‍ය තත්ත්ව ප්‍රකාශනය වෙනස්වන්නේ කෙසේ දැයි පෙන්වන්න. (ලකුණු 02)
- iv. විවට වෙළෙඳපොළ කටයුතු (Open Market Operations) යනුවෙන් අදහස් වන්නේ කුමක් ද? ඒ තුළින් මහ බැංකුව ඉටුකර ගැනීමට අපේක්ෂිත පරමාර්ථ සඳහන් කොට එම පරමාර්ථ ඉටුකර ගැනීමේ හැකියාව සීමා කෙරෙන ප්‍රධාන සාධක වෙන වෙනම සඳහන් කරන්න. (ලකුණු 04)
- v. “ආර්ථිකයේ මුදල් සැපයුමේ හටගන්නා සැබෑ ප්‍රසාරණය බැංකු තැන්පතු ප්‍රසාරණ සංගුණකයෙහි දැක්වෙන ප්‍රමාණයට වඩා වෙනස්විය හැකිය.” ඒ අනුව වාණිජ බැංකු පද්ධතියක මුදල් මැවීම සීමාවිය හැකි සාධක හතරක් සඳහන් කරන්න. (ලකුණු 04)

08. i. වෙළෙඳපොළ අසමත් වීමට හේතුවන ආදායම් ව්‍යාප්තියේ විෂමතාව අවම කර ගැනීමට ආණ්ඩුව විසින් ගනු ලබන ක්‍රියාමාර්ග මොනවා ද? (ලකුණු 04)

ii. "පාසල් ළමුන්ට අධ්‍යාපන අවස්ථා පුළුල් කිරීම සඳහා රජය විසින් නොමිලේ නිල ඇඳුම් වවුචර් ලබා දීමේ වැඩසටහන් ක්‍රියාවට නංවා ඇත."  
මෙම වැඩසටහන සමාජීය ප්‍රශස්ථ නිමවුමට හා වෙළෙඳපොළ කාර්යක්ෂම නිමවුමට ඇති කෙරෙන බලපෑම ප්‍රස්ථාර සටහනක් ඇසුරින් පැහැදිලි කරන්න. (ලකුණු 04)

iii. රාජ්‍ය අයවැය සම්බන්ධයෙන් පහත සඳහන් මිනුම් හඳුන්වා ඒවායේ වැදගත්කම දක්වන්න.  
අ) වර්තන ගිණුමේ ශේෂය                                  ආ) ප්‍රාථමික ශේෂය  
ඉ) සමස්ථ ශේෂය (ලකුණු 06)

iv. "ශ්‍රී ලංකාවේ රාජ්‍ය මූල්‍ය ක්ෂේත්‍රයේ පවතින ප්‍රධාන ගැටළුවක් වන්නේ රාජ්‍ය ණය ඉහළ මට්ටමක පැවතීමයි." 2018 වර්ෂයේ ශ්‍රී ලංකාවේ රාජ්‍ය ණය වල ස්වභාවය හා ප්‍රමාණය රාජ්‍ය ණය හා සම්බන්ධ මිනුම් ඇසුරින් දක්වන්න. (ලකුණු 02)

v. අ) මෑත කාලීනව ශ්‍රී ලංකාවේ අයවැය හිඟය පියවා ගැනීමට යොදාගත් මූල්‍ය මොනවා ද? (ලකුණු 02)  
ආ) එම මූල්‍ය භාවිතා කිරීමෙන් බිහිවන ආර්ථික ප්‍රතිඵලය මොනවා ද? (ලකුණු 02)

09. අ) A සහ B යන රටවල් දෙකට සමාන වූ සම්පත් ප්‍රමාණයකින් නිපදවිය හැකි නිරිඟු සහ රෙදි ඒකක ප්‍රමාණයන් පහත දැක්වේ.

	A	B
නිරිඟු	18	20
රෙදි	6	20

i. භාණ්ඩ දෙවර්ගයම නිපදවීමේ නිරපේක්ෂ වාසි ඇති රට කුමක් ද? (ලකුණු 02)

ii. A සහ B රටවලට සාපේක්ෂ වාසිය ඇති භාණ්ඩ කවරේ ද? ගණන් බලන්න. (ලකුණු 02)

iii. රටවල් දෙකෙහි අභ්‍යන්තර හුවමාරු අනුපාතයන් අතර අතරමැදි හුවමාරු වෙළෙඳ අනුපාතය (ජාත්‍යන්තර හුවමාරු අනුපාතය) රෙදි ඒකකයට නිරිඟු ඒකක 2 ක් නම් ,

- a. විශේෂීකරණය යටතේ වෙළෙඳාම තුළින් A රටට රෙදි ඒකකයක් ලබා ගැනීමට හුවමාරු කළ යුතු නිරිඟු ඒකක ප්‍රමාණය කොපමණ ද?
- b. වෙළෙඳාමක් නොමැති නම් A රටට රෙදි ඒකකයක් ලබා ගැනීමට කැප කළ යුතු නිරිඟු ඒකක ප්‍රමාණය කොපමණ ද?
- c. වෙළෙඳාමක් නොමැති නම් B රටට නිරිඟු ඒකකයක් ලබා ගැනීමට කැප කළ යුතු රෙදි ඒකක ප්‍රමාණය කොපමණ ද?
- d. විශේෂීකරණය යටතේ වෙළෙඳාම සිදුවන විට B රටට නිරිඟු ඒකකයකට හුවමාරු විය යුතු රෙදි ඒකක ප්‍රමාණය කොපමණ ද?

(කොටසකට ලකුණු 02 බැගින්)

අ) i. සඵල ආරක්ෂණ අනුපාතය, ඉහළ යන්නේ කුමන තත්ත්වයක් යටතේ ද? (ලකුණු 02)

ii. තරඟකාරීත්ව වාසිය යන්න පැහැදිලි කරන්න. තරඟකාරීත්ව වාසියේ මූල්‍ය කවරේ ද? (ලකුණු 03)

iii. නිදහස් වෙළෙඳාම සීමා කෙරෙන තීරුබදු බාධකවලට අමතරව තීරුබදු නෙවන බාධක මොනවා ද? (ලකුණු 03)

10. i. ද්විත්ව සටහන් මූලධර්ම යොදා ගනිමින් පහත සඳහන් ගණුදෙනු ශ්‍රී ලංකාවේ ගෙවුම් ශේෂ ලේඛනයෙහි ඔබ වාර්තා කරන්නේ කෙසේ ද?

අ) ශ්‍රී ලාංකික සමාගමක් රුපියල් මිලියන 1500 ක වටිනාකමකින් යුත් පරිගණක යන්ත්‍ර ජපන් සමාගමක් වෙතින් ශ්‍රී ලංකාවට ආනයනය කිරීම.

- ආ) ශ්‍රී ලංකා රජය විින් රජයෙන් ලබාගත් ණය මුදලක් වෙනුවෙන් ඩොලර් මිලියන 400 ක පොළී ගෙවීම.
- ඉ) කොරියන් රජයේ සේවය කරන ශ්‍රී ලාංකිකයින් තම ඥාතීන් වෙත ඩොලර් මිලියන 200 ක් එවීම.
- ඊ) ශ්‍රී ලංකාවේ පෞද්ගලික ව්‍යාපාරික ආයතනයක් ජාත්‍යන්තර මූල්‍ය ආයතනයකින් ඩොලර් මිලියන 500 ක මුදලක් ණය වශයෙන් ලබා ගැනීම. (ලකුණු 04)

ii. කල්පිත ආර්ථිකයක කිසියම් වර්ෂයක නේවාසිකයින් හා අනේවාසිකයින් අතර සිදුවන ගණුදෙනු පහත දැක්වේ. (වටිනාකම් රුපියල් මිලියන වලින්)

භාණ්ඩ අපනයන	=	200
සේවා අපනයන	=	70
භාණ්ඩ ආනයන	=	350
සේවා ආනයන	=	20
ප්‍රාථමික ආදායම් ලැබීම්	=	110
ප්‍රාථමික ආදායම් ගෙවීම්	=	135
ද්විතීක ආදායම් ශුද්ධ	=	40
සේවා නියුක්තිකයින්ගේ ප්‍රේෂණ	=	35
රජයේ සංක්‍රාම ශුද්ධ	=	15
ප්‍රාග්ධන ගිණුම් ලැබීම්	=	60
ප්‍රාග්ධන ගිණුම් ගෙවීම්	=	55
අනෙකුත් ආයෝජන වත්කම්	=	30
සාජු ආයෝජන ලැබීම්	=	45

ඉහත දත්ත ආශ්‍රයෙන් පහත සඳහන් දෑ ගණනය කරන්න.

- අ) වෙළෙඳ ශේෂය
- ආ) ශුද්ධ අපනයන
- ඉ) ජංගම ගිණුමේ ශේෂය
- ඊ) ජංගම සහ ප්‍රාග්ධන ගිණුමේ ශේෂය (ලකුණු 04)

iii. ගෙවුම් ශේෂයේ සමස්ථ ශේෂයේ හිඟයක් දිගු කාලීනව පවතී නම් ඒ සඳහා භාවිතා කෙරෙන ප්‍රතිපත්තිමය ක්‍රියාමාර්ග කවරේ ද? (ලකුණු 04)

iv. නාමික විනිමය අනුපාතිකය සඵල විනිමය අනුපාතිකයෙන් වෙනස් වන්නේ කෙසේ ද? (ලකුණු 04)

v. නමුදු විනිමය අනුපාතික ක්‍රමය යටතේ ශ්‍රී ලංකා රුපියලේ බාහිර අගය ඇමරිකානු ඩොලර්වලින් තීරණය වන ආකාරය පෙන්වුම් කිරීමට උචිත ප්‍රස්ථාර සටහනක් නිර්මාණය කර එහි වක්‍රවල පිහිටීම පිළිබඳ විස්තර කරන්න. (ලකුණු 04)